

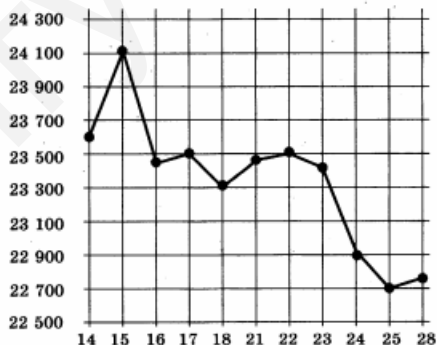
ВАРИАНТ 5

Отвeтом к заданиям 1–14 является целое число или конечная десятичная дробь. Запишите число в поле ответа в тексте работы, затем перенесите его в бланк ответов № 1 справа от номера соответствующего задания, начиная с первой клеточки. Каждую цифру, знак «минус» и запятую пишите в отдельной клеточке в соответствии с приведёнными в бланке образцами. Единицы измерений писать не нужно.

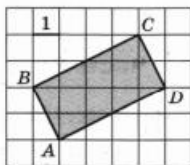
Часть 1

- Каждый день во время конференции расходуется 120 пакетиков чая. Конференция длится 3 дня. Чай продаётся в пачках по 50 пакетиков. Сколько пачек нужно купить на все дни конференции?
- На рисунке жирными точками показана цена олова на момент закрытия биржевых торгов во все рабочие дни с 14 по 28 июля 2008 года.

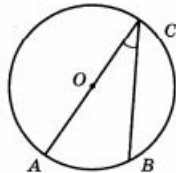
По горизонтали указываются числа месяца, по вертикали — цена тонны олова в долларах США. Для наглядности жирные точки на рисунке соединены линией. Определите по рисунку, какого числа цена олова на момент закрытия торгов была наименьшей за данный период.



3. Чтобы связать свитер, хозяйке нужно 900 граммов шерсти синего цвета. Можно купить синюю пряжу по цене 70 рублей за 100 г, а можно купить неокрашенную пряжу по цене 60 рублей за 100 г и окрасить её. Один пакетик краски стоит 40 рублей и рассчитан на окраску 300 г пряжи. Какой вариант покупки дешевле? В ответ напишите, сколько рублей будет стоить эта покупка.
4. Найдите площадь прямоугольника $ABCD$.

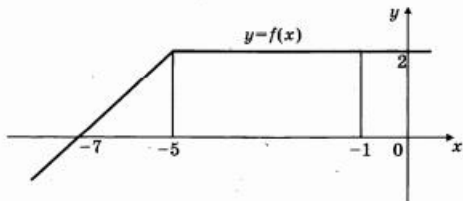


5. Марина и Дина бросают кубик по одному разу. Выигрывает та девочка, у которой выпадет больше очков. Первой кубик бросила Марина, у неё выпало 3 очка. Найдите вероятность того, что Дина выиграет.
6. Найдите корень уравнения $5^{4-x} = 25$.
7. Найдите вписанный угол, опирающийся на дугу, которая составляет $1/5$ окружности. Ответ дайте в градусах.

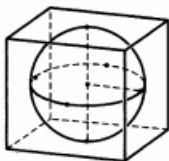


8. На рисунке изображен график некоторой функции $y = f(x)$. Пользуясь рисунком, вычислите определенный интеграл

$$\int_{-7}^{-1} f(x) dx.$$

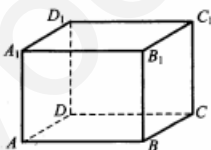


9. Шар, объём которого равен 21π , вписан в куб. Найдите объём куба.



Часть 2

10. Найдите значение выражения $\log_8 126 - \log_8 3,5$.
11. Зависимость температуры (в градусах Кельвина) от времени (в минутах) для нагревательного элемента некоторого прибора была получена экспериментально и на исследуемом интервале температур задаётся выражением $T(t) = T_0 + at + bt^2$, где $T_0 = 900$ К, $a = 31$ К/мин, $b = -0,2$ К/мин². Известно, что при температурах нагревателя свыше 1550 К прибор может испортиться, поэтому его нужно отключать. Определите (в минутах), через какое наибольшее время после начала работы нужно отключать прибор.
12. В прямоугольном параллелепипеде $ABCD A_1 B_1 C_1 D_1$ известны длины рёбер: $AB = 3$, $AD = 4$, $AA_1 = 32$. Найдите площадь сечения, проходящего через вершины C , C_1 и A .



13. Первый сплав содержит 5% меди, второй — 11% меди. Масса второго сплава больше массы первого на 4 кг. Из этих двух сплавов получили третий сплав, содержащий 10% меди. Найдите массу третьего сплава. Ответ дайте в килограммах.
14. Найдите наименьшее значение функции $y = 11\lg x - 11x + 16$ на отрезке $\left[0; \frac{\pi}{4}\right]$.

Не забудьте перенести все ответы в бланк ответов № 1.

Для записи решений и ответов на задания 15–21 используйте бланк ответов № 2. Запишите сначала номер выполняемого задания (15, 16 и т. д.), а затем полное обоснованное решение и ответ. Ответы записывайте чётко и разборчиво.

15. а) Решите уравнение $6 \sin^2 x - 5 \sin x - 4 = 0$.
 б) Найдите все корни этого уравнения, принадлежащие отрезку $\left[-\frac{7\pi}{2}; -\frac{3\pi}{2}\right]$.
16. В правильной четырёхугольной пирамиде $SABCD$ с вершиной S сторона основания равна 8. Точка L — середина ребра SC . Тангенс угла между прямыми BL и SA равен $2\sqrt{\frac{2}{5}}$.
 а) Пусть O — центр основания пирамиды. Докажите, что прямые BO и LO перпендикулярны.
 б) Найдите площадь поверхности пирамиды.
17. Решите неравенство $\log_{\frac{25-x^2}{16}} \frac{24+2x-x^2}{14} > 1$.
18. На отрезке BD взята точка C . Биссектриса BL равнобедренного треугольника ABC с основанием BC является боковой стороной равнобедренного треугольника BLD с основанием BD .
 а) Докажите, что треугольник DCL равнобедренный.
 б) Известно, что $\cos \angle ABC = \frac{3}{4}$. В каком отношении прямая DL делит сторону AB ?
19. 31 декабря 2014 года Пётр взял в банке некоторую сумму в кредит под некоторый процент годовых. Схема выплаты кредита следующая — 31 декабря каждого следующего года банк начисляет проценты на оставшуюся сумму долга (то есть увеличивает долг на $a\%$), затем Пётр переводит очередной транш. Если бы он будет платить каждый год по 2 592 000 рублей, то выплатит долг за 4 года. Если по 4 392 000 рублей, то за 2 года. Под какой процент Пётр взял деньги в банке?
20. Найдите все значения параметра a , при каждом из которых модуль разности корней уравнения $x^2 - 6x + 12 + a^2 - 4a = 0$ принимает наибольшее значение.
21. Известно, что при любом целом $K \neq 27$ число $a - K^3$ делится без остатка на $27 - K$. Найдите a .

Вариант 5

1	2	3	4	5	6	7	8	9	10	11	12	13	14
8	25	630	10	0,5	2	36	10	126	2	25	160	6	16
15	а) $(-1)^{n+1} \frac{\pi}{6} + \pi n, n \in \mathbb{Z}$; б) $-\frac{17\pi}{6}, -\frac{13\pi}{6}$												
16	192												
17	$(-4; -3), (-1; 3)$												
18	4 : 21												
19	20												
20	$a = 2$												
21	$a = 27^3$												